



evropský
sociální
fond v ČR



EVROPSKÁ UNIE



MINISTERSTVO ŠKOLSTVÍ,
MLÁDEŽE A TĚLOVÝCHOVY



OP Vzdělávání
pro konkurenceschopnost

INVESTICE DO ROZVOJE VZDĚLÁVÁNÍ

NÁZEV ŠKOLY	Základní škola Šebetov, okres Blansko
ČÍSLO PROJEKTU	CZ.1.07/1.4.00/21.1560
ČÍSLO A NÁZEV ŠABLONY	VY_32_INOVACE_28_M_Opakování číslice 10
AUTOR	Mgr. Jana Manová
ROČNÍK	1.,2.ročník
DATUM VYTVOŘENÍ VM	17.1. 2013
VZDĚL. OBLAST	Matematika a její aplikace
VZDĚL. OBOR	Matematika
TÉMA	Číslice 10
KLÍČOVÁ SLOVA	Spočítej, vymysli, slovní úloha, pořadí, utvoř, trojúhelník
ANOTACE	Upevnění číslice 10. Přiřazení počtu prvků k číslici. Tvorba slovní úlohy a tvoření příkladů na sčítání a odčítání. Pořadí čísel od 1 do 10. Možnost využití i při opakování řadových číslovek a lze použít na počátku 2. ročníku při opakování.

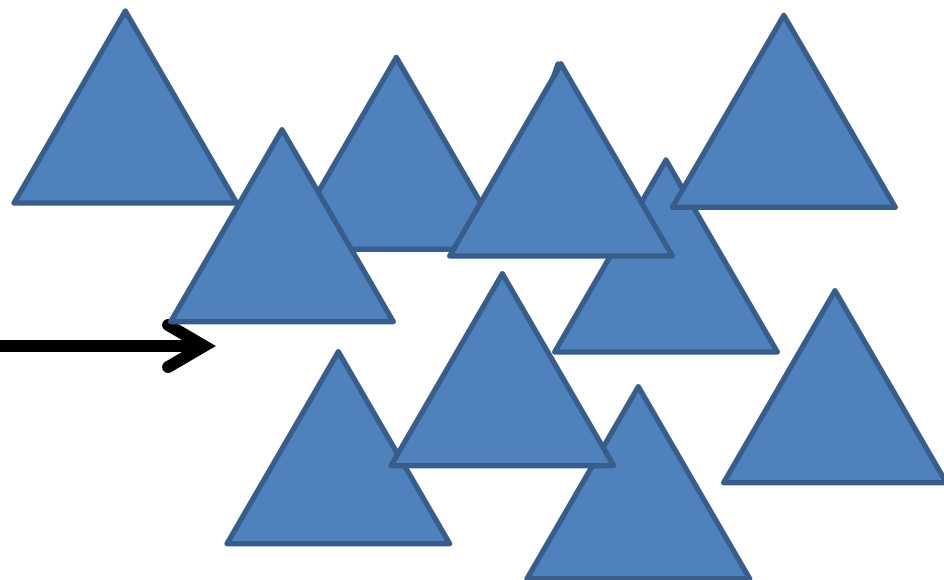
Spočítej

a vymysli 2 příklady na +, 2 příklady na -.

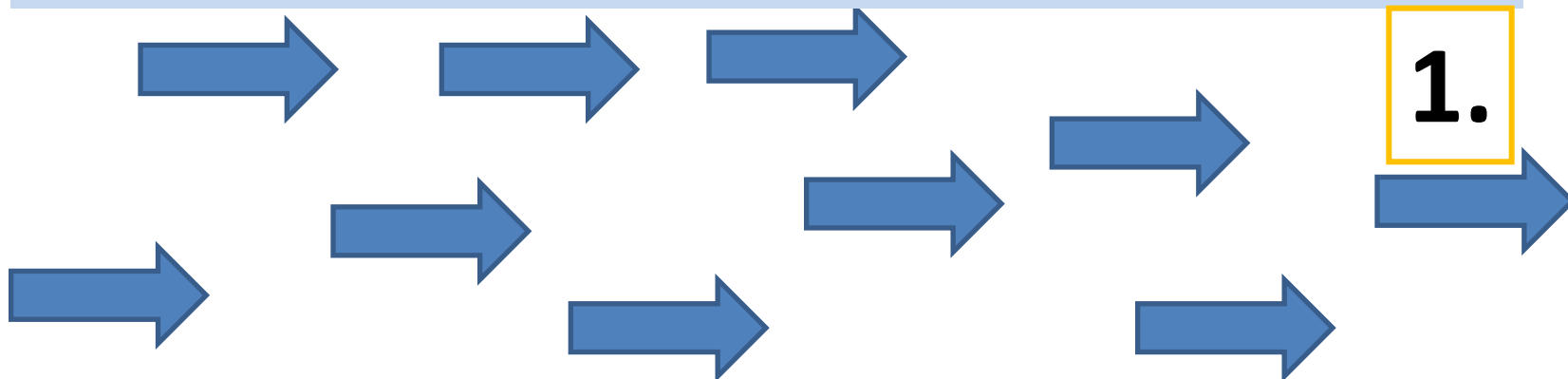


Do každého
trojúhelníku nakresli
kruh

10



Každou šipku očísľuj podle pořadí




Vyjádři příklady danými obrázky

$$5+5 =$$



$$10-9 =$$



Vymysli slovní úlohu k obrázkům



$$6 + 4 = 10$$



$$10 - 7 = 3$$

Použité zdroje

**Veškeré použité obrázky (kliparty)
pocházejí ze sady Microsoft Office
2010.**