

NÁZEV ŠKOLY	Základní škola Šebetov, okres Blansko
ČÍSLO PROJEKTU	CZ.1.07/1.4.00/21.1560
ČÍSLO A NÁZEV ŠABLONY	VY_32_INOVACE_15_M_Jednotky délky, násobilka
AUTOR	Petra Lepková
ROČNÍK	3. – 5. ročník
DATUM VYTVOŘENÍ DUMU	10.11.2012
VZDĚL. OBLAST	Matematika a její aplikace
VZDĚL. OBOR	Matematika
TÉMA	Slovní úlohy – násobilka, sčítání, jednotky délky
KLÍČOVÁ SLOVA	Slovní úloha, metr, centimeter, rozměr
ANOTACE	Řešení slovních úloh, výpočet násobilky, sčítání nohou zvířat, převod jednotek délky. Orientace v jednotkách. Pracovní list naučiii I v

Odkazy:

http://images.google.com/imgres?q=%C5%BEirafa+kreslen%C3%A1&hl=cs&tbo=d&biw=1366&bih=667&tbnid=f094r5xT1vIMSM:&imgrefurl=http://tfc.howstuffworks.com/family/how-to-draw-a-giraffe.htm&docid=XaEHUJM9pz9v8M&imgurl=http://static.ddmcdn.com/gif/how-to-draw-animals-51.jpg&w=400&h=879&ei=qA_8UKjSNqeq4AS_tICwCg&zoom=1&iact=hc&vpx=524&vpy=57&dur=1780&hovh=333&hovw=151&tx=97&ty=200&sig=104933235895666009870&page=1&tbnh=138&tbnw=63&start=0&ndsp=42&ved=1t:429,r:4,s:0,i:91

<http://pixabay.com/cs/zv%C3%AD%C5%99ata-velk%C3%A9-kreslen%C3%BD-film-savci-24732/>

<http://pixabay.com/cs/r%C5%AF%C5%BEov%C3%BD-pt%C3%A1k-barva-luk-plame%C5%88%C3%A1k-47502/>

<http://www.i-creative.cz/2012/02/29/opice-omalovanky/>

http://images.google.com/imgres?q=had&hl=cs&tbo=d&biw=1366&bih=667&tbnid=sg3oZjmcRFwmqM:&imgrefurl=http://www.nej-videa.cz/had-sezral-kance/&docid=TfcuOLK6WgKKdM&imgurl=http://www.nej-videa.cz/wp-content/9f2e46a11b_51009926_o2.gif&w=700&h=656&ei=kxL8UOTEI4aQ4gTl4oCIAg&zoom=1&iact=rc&dur=621&sig=104933235895666009870&page=1&tbnh=141&tbnw=155&start=0&ndsp=20&ved=1t:429,r:15,s:0,i:151&tx=37&ty=122

http://images.google.com/imgres?q=papou%C5%A1ek+kreslen%C3%BD&hl=cs&tbo=d&biw=1366&bih=667&tbnid=GTWZSVqC0AEL_M:&imgrefurl=http://www.pixmac.cz/fotka/papou%25C5%25A1ek%2Bna%2Bv%25C4%259Btvi/000083545383&docid=qpwN7SKWYhjm_M&imgurl=http://vektor.pixmac.cz/4/papousek-na-vetvi-a-2011-ao-pixmac-vektor-83545383.jpg&w=230&h=415&ei=9xL8UM2OJonMswbFpIHwAg&zoom=1&iact=hc&vpx=843&vpy=4&dur=488&hovh=302&hovw=167&tx=92&ty=122&sig=104933235895666009870&page=1&tbnh=148&tbnw=82&start=0&ndsp=38&ved=1t:429,r:6,s:0,i:97

<http://images.google.com/imgres?q=kreslen%C3%BD+medv%C4%9Bd&hl=cs&sa=X&tbo=d&biw=1366&bih=667&tbnid=FZFQA2RDa5tLSM:&imgrefurl=http://auto-moto-samolepky.afirma.cz/%3Fp%3DproductsMore%26iProduct%3D407&docid=gLGjPumZyIEDIM&imgurl=http://auto-moto-samolepky.afirma.cz/files/products/407.jpg&w=393&h=368&ei=TxP8UMXwJsiSswbqpIH4DQ&zoom=1&iact=hc&vpx=526&vpy=293&dur=20&hovh=217&hovw=232&tx=133&ty=140&sig=104933235895666009870&page=1&tbnh=143&tbnw=153&start=0&ndsp=27&ved=1t:429,r:13,s:0,i:132>

<http://www.omalovanka.com/kresleni-online-dora-boots.html>

Zopakuj si:

1m = -----cm


- 1.) Pracovník spotřeboval na zarámování obrazů 4 metry materiálu. Kolik obrazů zarámoval, když měl každý rozměry 10 x 10cm?




Zápis:

Výpočet:

Odpověď:

- 2.) V ZOO mají 2 žirafy, 2 slony, 4 plameňáky, 3 opice, 2 hady, 5 papoušků, 1 medvěda a 8 lišek. Kolik mají dohromady nohou?





K výpočtu ti pomohou obrázky.

Zápis:

Výpočet:

Odpověď: